

## 2. Aufgabenblatt für die Vorlesung „Beschreibungslogik“

### Aufgabe 7: 30%

Beweise:

- (a)  $\exists r.C$  ist äquivalent zu  $\neg\forall r.\neg C$  (bzgl. der leeren TBox);
- (b) Für  $\mathcal{T} = \{A \equiv \neg A \sqcup \exists r.C\}$  gilt:  $\mathcal{T} \models \top \sqsubseteq \exists r.C$
- (c) Für  $\mathcal{T} = \{A \sqsubseteq \exists r.A, \neg A \sqsubseteq \exists s.B, \top \sqsubseteq \forall r.B \cap \forall s.A, A \cap B \sqsubseteq \perp\}$  gilt:  $\mathcal{T} \models X \sqsubseteq \exists r.X$

### Aufgabe 8: 20%

Beweise die offenen Punkte von Lemma 2.8: für alle generellen TBoxen  $\mathcal{T}$  und  $\mathcal{ALC}$ -Konzepte  $C, D$  gilt:

- (a)  $C$  ist erfüllbar bzgl.  $\mathcal{T}$  gdw.  $\mathcal{T} \not\models C \equiv \perp$
- (b)  $\mathcal{T} \models C \equiv D$  gdw.  $\mathcal{T} \models \top \sqsubseteq C \leftrightarrow D$

### Aufgabe 9: 20%

Betrachte das folgende Konzept und die folgende TBox:

$$C := \text{Vater} \sqcap \neg\text{Mensch} \quad \mathcal{T} := \{ \text{Mann} \sqsubseteq \neg\text{Frau}, \\ \text{Mensch} \equiv \text{Mann} \sqcup \text{Frau} \\ \text{Vater} \equiv \text{Mann} \sqcap \exists\text{hatKind.Mensch} \}$$

- (a) Wandle  $\mathcal{T}$  in eine definitorische TBox wie in Lemma 2.11, nenne das Resultat  $\mathcal{T}'$ ;
- (b) Expandiere  $\mathcal{T}'$ , nenne das Resultat  $\mathcal{T}''$ ;
- (c) Expandiere alle Konzeptnamen in  $C$  bzgl.  $\mathcal{T}''$  wie im Beweis von Theorem 2.9; entscheide anhand des entstandenen Konzeptes, ob  $C$  erfüllbar bzgl.  $\mathcal{T}$  ist.

### Aufgabe 10: 30%

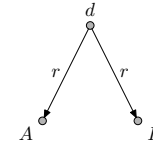
Für jedes der Interpretationspaare  $\mathcal{I}_i, \mathcal{J}_i$  auf der gegenüberliegenden Seite bestimme ob es ein  $\mathcal{ALC}$ -Konzept  $C$  gibt mit  $d \in C^{\mathcal{I}_i}$  und  $e \notin C^{\mathcal{J}_i}$  oder umgekehrt. Wenn dies der Fall ist, gib das Konzept  $C$  explizit an. Wenn nicht, gib eine Bisimulation an, die zeigt, dass  $(\mathcal{I}_i, d) \sim (\mathcal{J}_i, e)$ .

### Aufgabe 11: 20% (Zusatzaufgabe)

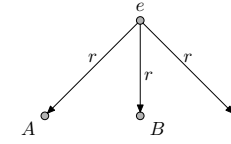
Beweise oder widerlege, dass für alle Interpretationen  $\mathcal{I}$  und  $\mathcal{J}$  gilt:

- (a) wenn  $\rho_1$  und  $\rho_2$  Bisimulationen zwischen  $\mathcal{I}$  und  $\mathcal{J}$  sind, dann auch  $\rho_1 \cup \rho_2$
- (b) wenn  $\rho_1$  und  $\rho_2$  Bisimulationen zwischen  $\mathcal{I}$  und  $\mathcal{J}$  sind, dann auch  $\rho_1 \cap \rho_2$

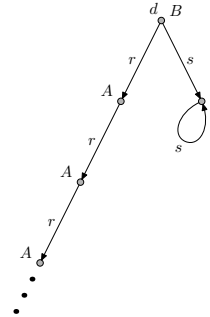
$\mathcal{I}_1$ :



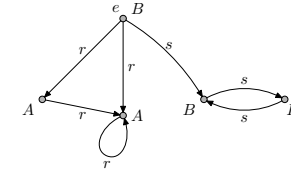
$\mathcal{J}_1$ :



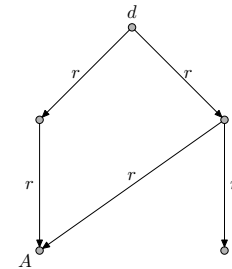
$\mathcal{I}_2$ :



$\mathcal{J}_2$ :



$\mathcal{I}_3$ :



$\mathcal{J}_3$ :

